






Projekt współfinansowany przez Unię Europejską w ramach Europejskiego Funduszu Społecznego.

## Karta pracy – Wiosna tuż, tuż!

### Zadanie 1

Połącz wyniki z działaniami na kwiatach





Projekt współfinansowany przez Unię Europejską w ramach Europejskiego Funduszu Społecznego.

## Zadanie 2

Oblicz:

$$315 \xrightarrow{+142} \boxed{\phantom{000}} \xrightarrow{+231} \boxed{\phantom{000}} \xrightarrow{+215} \boxed{\phantom{000}} \xrightarrow{+97} \boxed{\phantom{000}}$$

$$989 \xrightarrow{-254} \boxed{\phantom{000}} \xrightarrow{-155} \boxed{\phantom{000}} \xrightarrow{-329} \boxed{\phantom{000}} \xrightarrow{-193} \boxed{\phantom{000}}$$

$$416 \xrightarrow{+283} \boxed{\phantom{000}} \xrightarrow{-354} \boxed{\phantom{000}} \xrightarrow{+462} \boxed{\phantom{000}} \xrightarrow{-586} \boxed{\phantom{000}}$$

## Zadanie 3

W parku rośnie 236 krzewów forsycji. W tym roku dosadzono o 52 krzewy więcej od tych, które już rosną. Ile krzewów forsycji rośnie teraz w parku?

Rośnie:  krzewów forsycji. Dosadzono o:  więcej krzewów forsycji.

Razem:  krzewów forsycji.



Rozwiązanie:

Odpowiedź: